
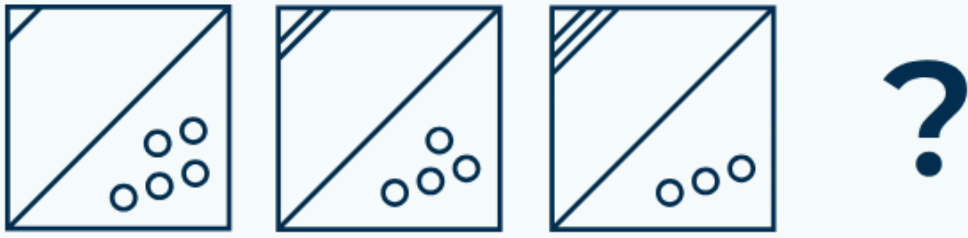



Яка з представлених нижче фігур доповнює послідовність?



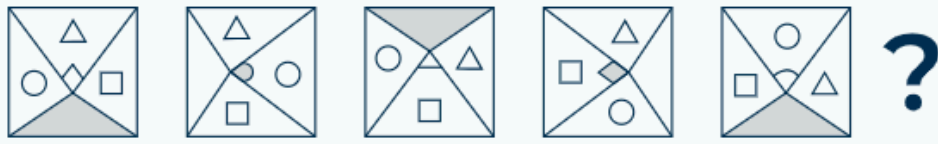
Яка з представлених нижче фігур доповнює послідовність?



Яка з представлених нижче фігур доповнює послідовність?



Яка з представлених нижче фігур доповнює послідовність?



Яка з представлених нижче фігур доповнює послідовність?



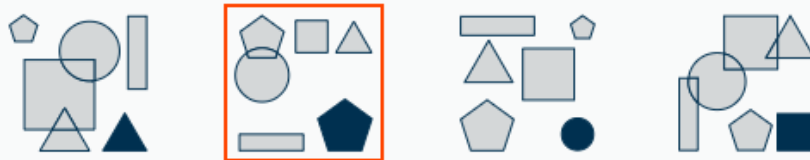
Визначте, яка з фігур є зайвою:



Визначте, яка з фігур є зайвою:



Визначте, яка з фігур є зайвою:



Визначте, яка з фігур є зайвою:



Визначте, яка з фігур є зайвою:



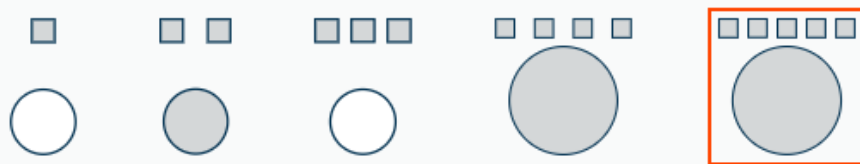
Визначте, яка з фігур є зайвою:



Визначте, яка з фігур є зайвою:



Визначте, яка з фігур є зайвою:



Визначте, яка з фігур є зайвою:



Визначте, яка з фігур є зайвою:



Як повинна змінитися нижня фігура?



Як повинна змінитися нижня фігура?



Як повинна змінитися нижня фігура?





Як повинна змінитися нижня фігура?

